

5.

Сколько флажков закрыто, если их столько же, сколько видно?


1)



Выбери и закрась ответ.

7 6 4 3 2


2)



Выбери и закрась ответ.

6 7 8 5 4 3


3)



Выбери и закрась ответ.

4 2 5 6 7 2 8

4)

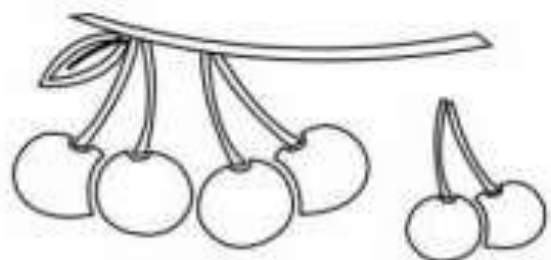


Выбери и закрась ответ.

3 4 8 7 5

ВЕСЁЛАЯ МАТЕМАТИКА

На ветке было 6 вишен. Две упали. Сколько ягодок осталось? Реши пример.



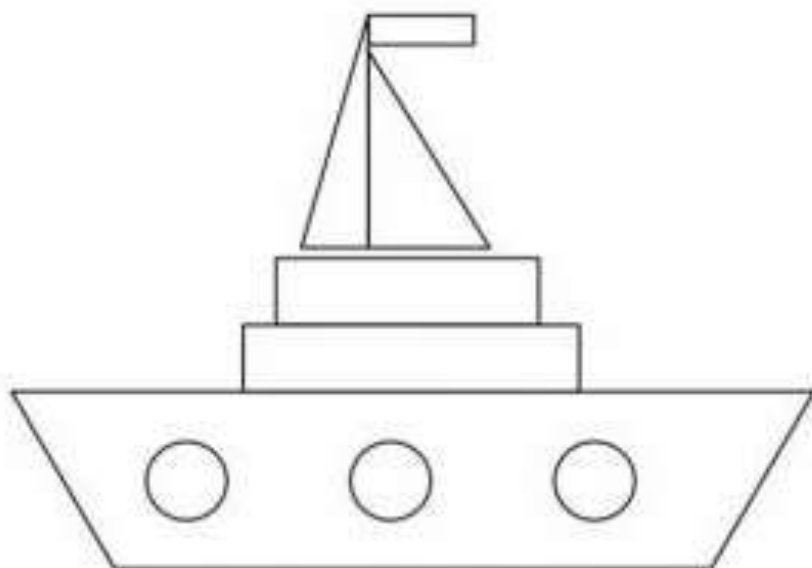
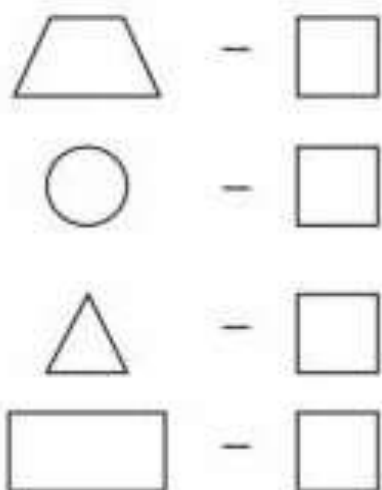
$$\boxed{6} - \boxed{2} = \boxed{}$$

На небе было 7 тучек, три сдуло ветром. сколько тучек осталось?
Реши пример.



$$\boxed{7} - \boxed{3} = \boxed{}$$

Сколько геометрических фигур спряталось в корабле. Раскрась картинку.



Отметь фигуры так, как показано на образце.

